





Décembre 2021

Lundi		Mardi		Mercredi		Jeudi		Vendredi		Samedi		Dimanche	
				Hanoukka	1	Hanoukka	2	Hanoukka	3	Hanoukka	4	Hanoukka	5
													
Hanoukka	6		7		8		9		10		11		12
										Fin de semaine		Fin de semaine	
	13		14		15		16		17		18		19
										Fin de semaine		Fin de semaine	
	20	Solstice	21		22		23		24	Noël	25		26
Congé scolaire				Congé scolaire		Congé scolaire		Congé scolaire				Fin de semaine	
	27		28		29		30		31				
Congé scolaire		Congé scolaire		Congé scolaire		Congé scolaire		Congé scolaire					

- 1– Regarde le calendrier et identifie les différentes fêtes.
- 2– Combien de fêtes peux-tu trouver?
- 3– Combien de jours y a-t-il entre le solstice d'hiver et Noël?
- 4– Est-ce que Noël est avant ou après Hanoukka?
- 5– Quand est le solstice d'hiver?
- 6– Combien de jours de fin de semaine y a-t-il en tout?
- 7– Quelle est la durée du mois de décembre?
- 8– Quel mois vient après le mois de décembre?
- 9– Si le 31 décembre est un jeudi, sur quel jour de la semaine le 1er janvier tombera-t-il?
- 10– Quelle est la durée de l'Hanoukka (n'oublie pas de regarder le calendrier du mois de novembre pour la date de début)?
- 11– Quelle est la durée du congé scolaire?