












Combien de paniers peux-tu faire? – Résultats

Corrigé

Voici un exemple de résultats qu'a obtenus un ou une élève. Dans cet exemple, l'élève a perdu les deux premières parties et a gagné la troisième. Au cours de la première partie, il reste un cube sous le 4, et au cours de la deuxième, il reste trois cubes sous le 5.





Partie n° 1

Répartition des cubes sur le plateau de jeu
Dénombrement des résultats obtenus
Nombre de fois où la somme a été obtenue

1	2	3	4	5	6	7	8	9	10	11	12
											
	II	I		III	I	II	III I	III	II	III	
0	2	1	0	3	1	2	6	4	2	3	0






Partie n° 2

Répartition des cubes sur le plateau de jeu
Dénombrement des résultats obtenus
Nombre de fois où la somme a été obtenue

1	2	3	4	5	6	7	8	9	10	11	12
											
	III I		III I		III III	III III	III I	III III	III I	I	II
0	6	0	6	0	8	8	6	9	6	1	2

Partie n° 3

Répartition des cubes sur le plateau de jeu
Dénombrement des résultats obtenus
Nombre de fois où la somme a été obtenue

1	2	3	4	5	6	7	8	9	10	11	12
											
	I	III	II	I	III	III I	III	III I	II		
0	1	4	2	1	4	6	5	6	2	0	0