

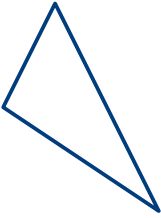





## Activité 2


### Je fais le bilan

Nom : \_\_\_\_\_

- Trace chaque côté des figures d'une couleur différente.
- Écris le nombre de côtés et le nombre de sommets.
- Écris le nom **géométrique** de la figure plane.  
Tu peux te servir de la banque de mots, au bas de la page suivante.
- Dans la dernière case du tableau :
  - dessine une figure qui n'est ni un carré, ni un rectangle, ni un cercle, ni un triangle.
  - compte les sommets et les côtés.
  - nomme-la.

	Côtés : _____ Sommets : _____ Nom : _____		Côtés : _____ Sommets : _____ Nom : _____
	Côtés : _____ Sommets : _____ Nom : _____		Côtés : _____ Sommets : _____ Nom : _____
	Côtés : _____ Sommets : _____ Nom : _____		Côtés : _____ Sommets : _____ Nom : _____

## Activité 2



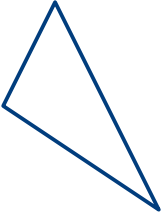




	Côtés : _____ Sommets : _____ Nom : _____		Côtés : _____ Sommets : _____ Nom : _____
---	---	--	---

**Banque de mots** : hexagone, triangle, rectangle, cube,  
quadrilatère, pentagone, carré, octogone.

## Activité 2

### Je fais le bilan – Corrigé

1. Trace chaque côté des figures d'une couleur différente.
2. Écris le nombre de côtés et le nombre de sommets.
3. Écris le nom **géométrique** de la figure plane.  
Tu peux te servir de la banque de mots, au bas de la page suivante.
4. Dans la dernière case du tableau :
  - a) dessine une figure qui n'est ni un carré, ni un rectangle, ni un cercle, ni un triangle.
  - b) compte les sommets et les côtés.
  - c) nomme-la.

	Côtés : 4 Sommets : 4 Nom : carré		Côtés : 8 Sommets : 8 Nom : octogone
	Côtés : 3 Sommets : 3 Nom : triangle		Côtés : 4 Sommets : 4 Nom : quadrilatère
	Côtés : 5 Sommets : 5 Nom : pentagone		Côtés : 6 Sommets : 6 Nom : hexagone
	Côtés : 4 Sommets : 4 Nom : rectangle	Quadrilatère, pentagone, hexagone et octogone sont des réponses possibles.	

**Banque de mots** : hexagone, triangle, rectangle, cube,  
quadrilatère, pentagone, carré, octogone.