

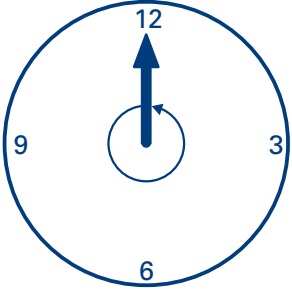
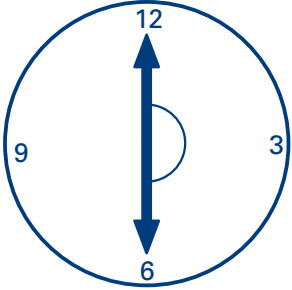
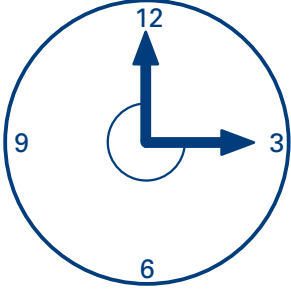
Des angles remarquables

Nom : _____

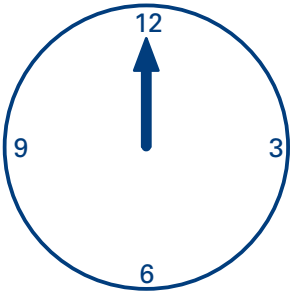
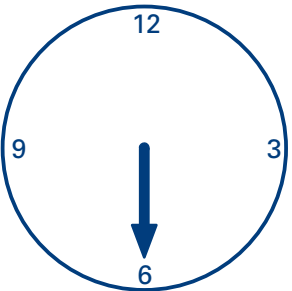
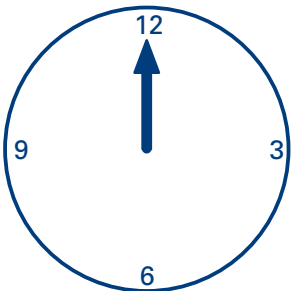
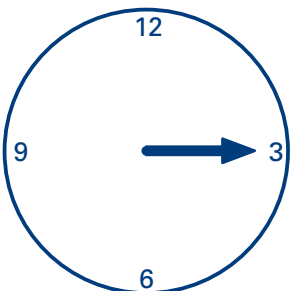
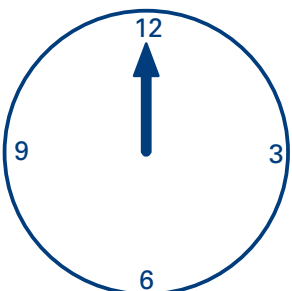
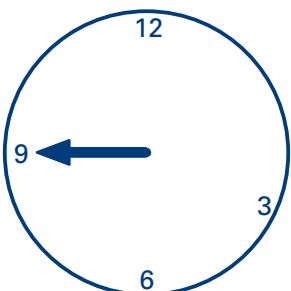
Matériel requis

- ✓ magazines ou encarts publicitaires

1. Dans chaque cas, écris la mesure de l'angle en degrés et écris la sorte d'angle, si cela est demandé.


<p>a)</p>  <p>C'est un angle _____.</p>	<p>b)</p>  <p>C'est un angle _____.</p>	<p>c)</p> 
--	---	---

2. Dans chaque cas, dessine une seconde aiguille pour former l'angle demandé et écris la sorte d'angle, si cela est demandé.

<p>a) Trace un angle de 180°.</p>  <p>C'est un angle _____.</p>	<p>b) Trace un angle de 270°.</p> 	<p>c) Trace un angle de 90°.</p>  <p>C'est un angle _____.</p>
<p>a) Trace un angle de 180°.</p>  <p>C'est un angle _____.</p>	<p>b) Trace un angle de 360°.</p>  <p>C'est un angle _____.</p>	<p>c) Trace un angle de 270°.</p> 

Activité 1

3. a) Trouve, dans un magazine ou dans un encart publicitaire, au moins trois illustrations dans lesquelles on trouve des angles droits.
- b) Découpe et colle ces illustrations dans l'espace ci-dessous.
- c) Trace au moins un angle droit en couleur sur chacune des illustrations.



4. Explique, dans tes propres mots, la définition d'un angle droit.

