





Mars 2021

| Lundi | Mardi | Mercredi | Jeudi | Vendredi | Samedi | Dimanche |
|---|-------|---|-------|----------|--|----------|
| 1 | 2 | 3 | 4 | 5 | 6 | 7 |
| Journée des femmes  | 8 | 9 | 10 | 11 | 12 | 13 |
| Début du carême  | 15 | 16 Saint-Patrick  | 17 | 18 | 19 Équinoxe  | 20 |
| 22 | 23 | 24 | 25 | 26 | 27 | 28 |
| 29 | 30 | 31 | | | | |

- 1- Regarde le calendrier et identifie les différentes fêtes.
- 2- Combien de fêtes peux-tu trouver?
- 3- Combien de jours y a-t-il entre la Journée internationale des femmes et le début du carême?
- 4- Est-ce que le dimanche des Rameaux est avant ou après la Saint-Patrick?
- 5- Quand est le début du printemps (équinoxe)?
- 6- Combien de jours de fin de semaine y a-t-il en tout?
- 7- Quelle est la durée du mois de mars?
- 8- Quel mois vient après le mois de mars?
- 9- Si le 31 mars est un mercredi, le 1^{er} avril sera quel jour de la semaine?