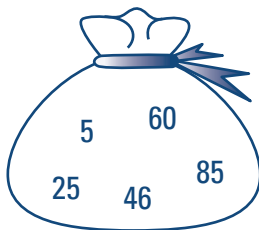



Des sacs remplis à craquer

Nom : _____


Sac A




Sac B



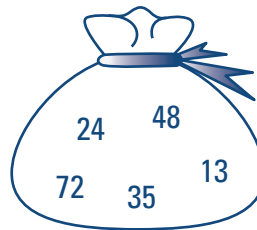
Sac C




Sac D



Sac E



Sac F



Associe un ou des sacs à chaque énoncé. Dans chaque cas, explique ta réponse.


a) Dans quel sac est-il plus probable d'obtenir un multiple de 5?

Activité 1

b) Dans quel sac est-il certain d'obtenir un nombre dont la somme des chiffres est 7?



c) Dans quel sac est-il très probable d'obtenir un nombre dont la somme des chiffres est inférieure ou égale à 10?



- d) Dans quel sac est-il très probable d'obtenir un nombre dont la somme du chiffre à la position des unités et du chiffre à la position des centaines est 12?

- e) Dans quel sac est-il moins probable d'obtenir un nombre pair qu'un nombre impair?

Activité 1

f) Dans quel sac est-il impossible d'obtenir un nombre pair?

g) Dans quel sac est-il très probable d'obtenir un nombre compris entre les nombres 10 et 50?