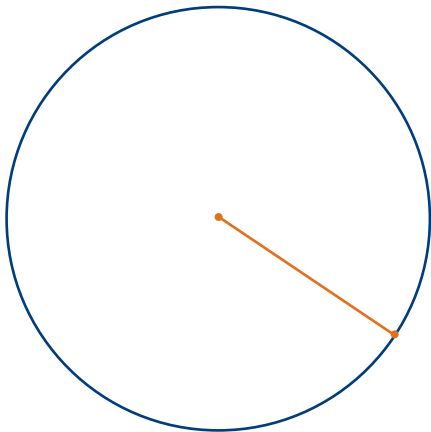



Mesurer et calculer – Corrigé

Détermine les mesures ci-dessous sur chacun des cercles.
Arrondis tes réponses au dixième de centimètre près.

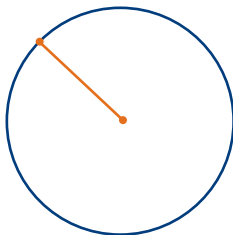
- a) le rayon
- b) le diamètre
- c) la circonférence



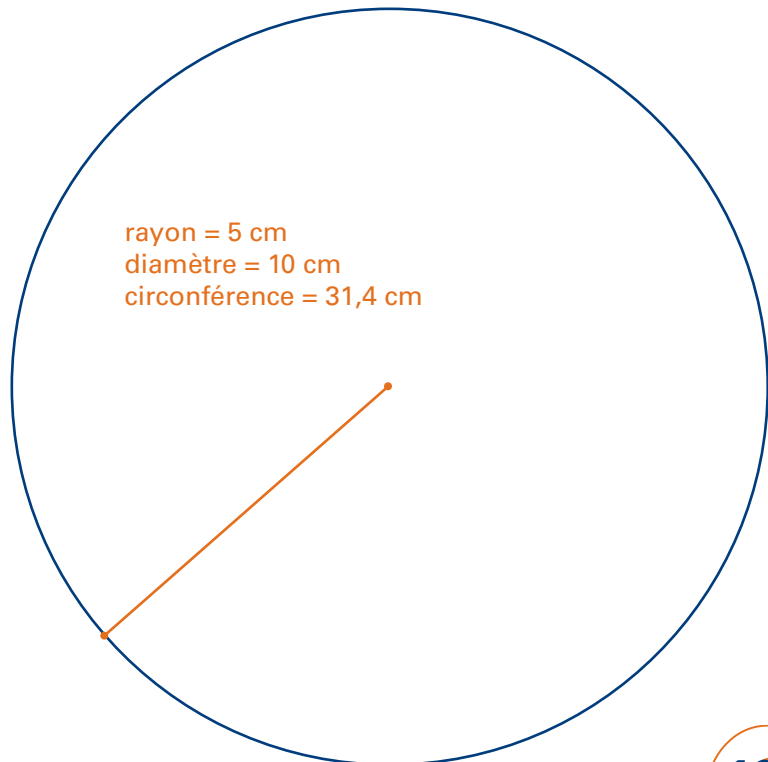
rayon = 2,8 cm
diamètre = 5,6 cm
circonférence = 17,6 cm



rayon = 3,5 cm
diamètre = 7 cm
circonférence = 22 cm



rayon = 1,5 cm
diamètre = 3 cm
circonférence = 9,4 cm



rayon = 5 cm
diamètre = 10 cm
circonférence = 31,4 cm