






Nombres croisés

Nom : _____

Remplis la grille de nombres croisés.

Dans les cases ci-dessous, laisse des traces de la stratégie utilisée pour effectuer chacune des soustractions.

	F	G	H	I	J
A					
B					
C					
D					
E					

Horizontalement

A. $45\ 036 - 27\ 452 = ?$

C. $34\ 320 - 12\ 115 = ?$

E. $87\ 823 - 81\ 210 = ?$

Verticalement

F. $30\ 746 - 17\ 500 = ?$

H. $66\ 649 - 7\ 408 = ?$

J. $31\ 705 - 27\ 550 = ?$

A.	$45\ 036 - 27\ 452 = ?$

C.	$34\ 320 - 12\ 115 = ?$

E.

$$87\,823 - 81\,210 = ?$$

F.

$$30\,746 - 17\,500 = ?$$

H.

$$66\,649 - 7\,408 = ?$$

J.

$$31\,705 - 27\,550 = ?$$