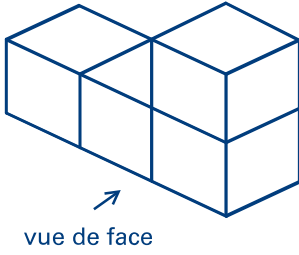
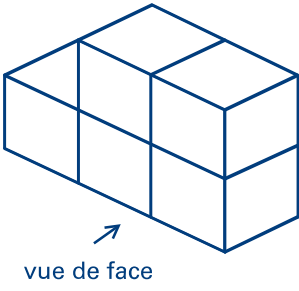
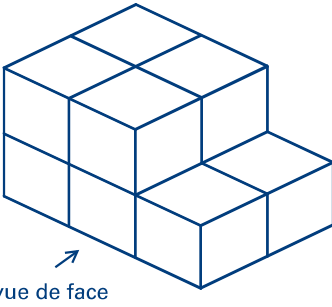


Activité 9

Des solides pleins la vue

Nom : _____

Trace les vues de dessus, de face et de côté de chacun des solides.

	Sur le transparent	Vue de face	Vue de côté	Vue de dessus																											
Solide A		<table border="1" style="width: 100%; height: 100%;"> <tr><td></td><td></td><td></td></tr> <tr><td></td><td></td><td></td></tr> <tr><td></td><td></td><td></td></tr> </table>										<table border="1" style="width: 100%; height: 100%;"> <tr><td></td><td></td><td></td></tr> <tr><td></td><td></td><td></td></tr> <tr><td></td><td></td><td></td></tr> </table>										<table border="1" style="width: 100%; height: 100%;"> <tr><td></td><td></td><td></td></tr> <tr><td></td><td></td><td></td></tr> <tr><td></td><td></td><td></td></tr> </table>									
Solide B		<table border="1" style="width: 100%; height: 100%;"> <tr><td></td><td></td><td></td></tr> <tr><td></td><td></td><td></td></tr> <tr><td></td><td></td><td></td></tr> </table>										<table border="1" style="width: 100%; height: 100%;"> <tr><td></td><td></td><td></td></tr> <tr><td></td><td></td><td></td></tr> <tr><td></td><td></td><td></td></tr> </table>										<table border="1" style="width: 100%; height: 100%;"> <tr><td></td><td></td><td></td></tr> <tr><td></td><td></td><td></td></tr> <tr><td></td><td></td><td></td></tr> </table>									
Solide C		<table border="1" style="width: 100%; height: 100%;"> <tr><td></td><td></td><td></td></tr> <tr><td></td><td></td><td></td></tr> <tr><td></td><td></td><td></td></tr> </table>										<table border="1" style="width: 100%; height: 100%;"> <tr><td></td><td></td><td></td></tr> <tr><td></td><td></td><td></td></tr> <tr><td></td><td></td><td></td></tr> </table>										<table border="1" style="width: 100%; height: 100%;"> <tr><td></td><td></td><td></td></tr> <tr><td></td><td></td><td></td></tr> <tr><td></td><td></td><td></td></tr> </table>									